




Maximum des points	39p.
Total des points obtenus	

1. a) Il en existe deux familles d'escargots, les quelles ? b) Nommez en deux espèces de chaque famille ! (p.69)			6p.
a)	b)	b)	
a)	b)	b)	

2. Complétez le tableau sur le carré de porc. (p.43)			9p.
Morceau de détail	Préparation / Découpe	Cuisson (Plusieurs possibilités)	
 <p>.....</p>			
 <p>.....</p>			
 <p>.....</p>			

3. a) Que signifient LDAI et ODAIOUs ? (p.130-131)		2p.
LDAI :		
ODAIIOUs :		

4. Quels sont les buts de la présente loi ? (p.130-131)	3p.

5. Quel est le champ d'application de la présente loi ? (p.130-131)	3p.

6. Le service d'inspection contrôle régulièrement et sans préavis les entreprises soumises au contrôle obligatoire, quel sont les 4 secteurs évalués ? (p.1130-131)	4p.

7. Ci-dessous vous avez la recette de l'émincé zurichoise pour 5 personnes. Calculez la recette pour 31 personnes. Arrondissez correctement ! (p.155)			12p.
Ingrédients	Quantité pour 5 personnes	Quantité pour 31 personnes	
Emincé de veau	0.650 kg		
Farine fleur	0.012 kg		
Huile de tournesol	0.025 kg		
Beurre	0.050 kg		
Champignons de Paris émincés	0.550 kg		
Oignons pelés et hachés	0.045 kg		
Vin blanc	0.120l		
Demi-glace	0.200 l		
Crème entière 35%	0.100 l		
Sel, poivre du moulin	1x		
Persil haché	0.005 gr		
Calcul du multiplicateur :			